



Сурагчийн нэр:

Эхэлсэн: он сар өдөр

1

3 алим будаарай. Будаагүй..... алим үлдсэн. Нийт..... алим байна.




5 лийр будаарай. Будаагүй лийр үлдсэн. Нийт лийр байна.



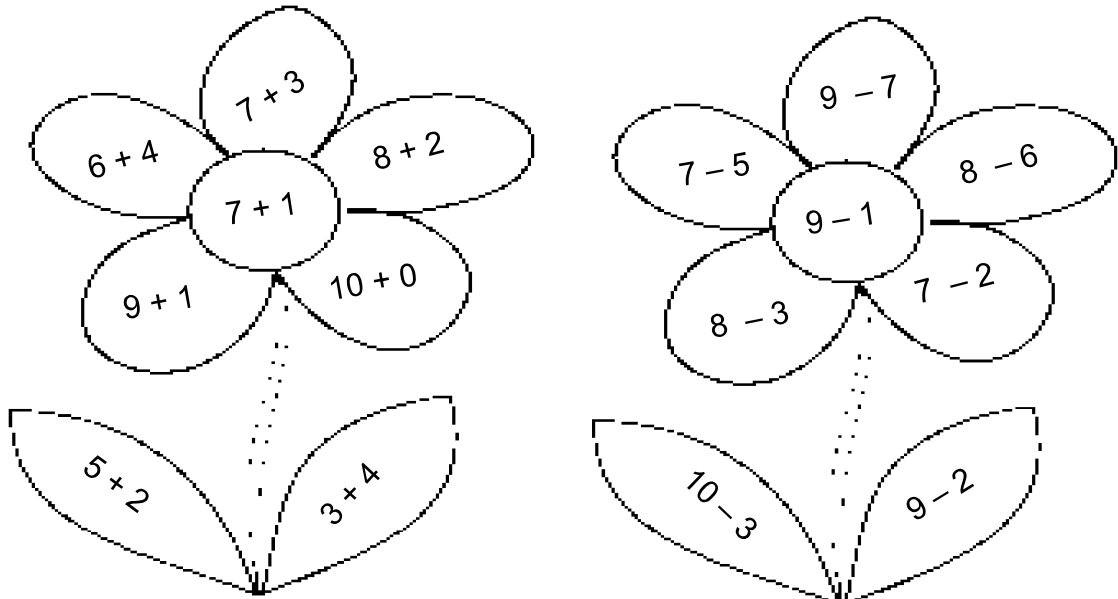
2

10 болгож гүйцээж будаарай. Хэдийг будсан бэ?



3

Илэрхийллийн утгыг олж, өнгөөр будаарай.






Дууссан:сарөдөр



Даалгавар	1	2	3
Өөрийн үнэлгээ	😊	😊	😊

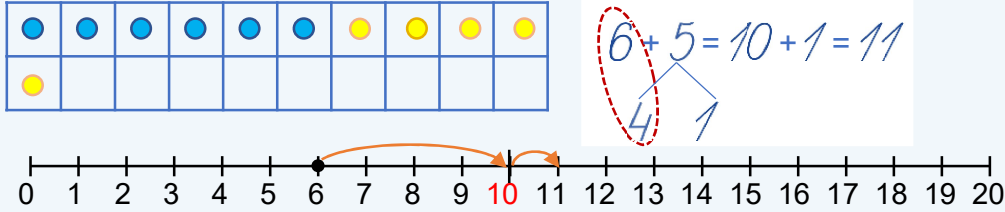
Сурагчийн нэр:

Эхэлсэн: он сар өдөр


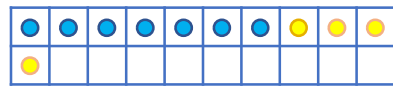






$$6 + 5 = 6 + 4 + 1 = 10 + 1 = 11$$


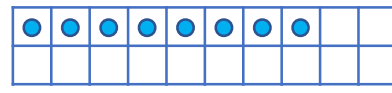


$$6 + 5 = 10 + 1 = 11$$



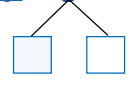
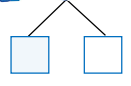
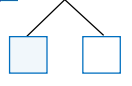
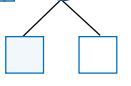




1 Шувуу бүрийг дугуй дүрсээр төлөөлүүлэн хүснэгтэд тэмдэглээрэй. Нийт шувууны тоог олох илэрхийлэл бичээд, нийлбэрийн утгыг олсон аргаа тоон шулуун дээр дүрслэн харуулаарай.




2 Нисэж ирсэн шувууны тоог дугуй дүрсээр төлөөлүүлэн хүснэгтэд тэмдэглээрэй. Нийт шувууны тоог олоод илэрхийлэл бичээд, нийлбэрийн утгыг олсон аргаа тоон шулуун дээр дүрслэн харуулаарай.

3 Аравт гүйцээн задалж нийлбэрийн утгыг олоорой.

а. $5 + 8 = \square \square$	б. $9 + 3 = \square \square$	в. $7 + 6 = \square \square$	г. $4 + 8 = \square \square$
			
а. $5 + 8 = \square \square$	б. $9 + 3 = \square \square$	в. $7 + 6 = \square \square$	г. $4 + 8 = \square \square$
			

Дууссан:сарөдөр

Даалгавар	1	2	3
Өөрийн үнэлгээ			



Сурагчийн нэр:

Эхэлсэн: он сар өдөр



Анги 7 хүү, 8 охинтой бол нийт хэдэн сурагчтай вэ?

Хүү - 7
Охин - 8 } ?

x	x	x	x	x	x	x	o	o	o
o	o	o	o	o					

$$7 + 8 = 10 + 5 = 15$$



1) Хүү 9 балтай, охин 5 балтай бол тэд нийт хэдэн балтай вэ?

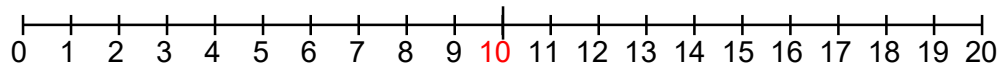
Хүү - 9
Охин - 5 } ?



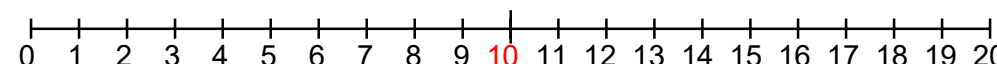
2) 9 шувуун дээр 5 шувуу нэмж ирэв. Нийт хэдэн шувуу болсон бэ?



3) Охин 6 сарнай, 7 хонгорзул цэцэг тарив. Охин нийт хэдэн цэцэг тарьсан бэ?



4) Хүү 7 мод, охин 4 мод тарив. Хүү охин нийт хэдэн мод тарьсан бэ?






Дууссан:сарөдөр

Даалгавар	1	2	3	4
Өөрийн үнэлгээ	😊	😊	😊	😊

Сурагчийн нэр:

Эхэлсэн: он сар өдөр







$$13 - 5 = 13 - 3 - 2 = 10 - 2 = 8$$

$$\begin{array}{c} 3 \quad 2 \quad 10 \end{array}$$

1.

●	●	●	●	●	●	●	●	●	●	●	●	●	●	●	●	●	●	●	●
●	●	●																	

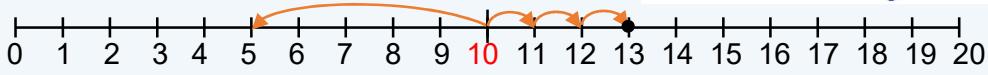


2.



●	●	●	●	●	●	●	●	●	●	●	●	●	●	●	●	●	●	●	●
●	●	●																	

$$13 - 5 = 10 - 5 + 3 = 5 + 3 = 8$$

$$\begin{array}{c} 10 \quad 3 \quad 5 \end{array}$$

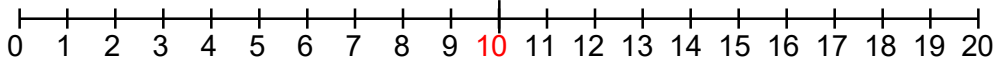


1 Хэдэн бөмбөг үлдсэн бэ?

--	--	--	--	--	--	--	--	--	--	--	--	--	--	--	--	--	--	--	--

--	--	--	--	--	--	--	--	--	--	--	--	--	--	--	--	--	--	--	--



2 Ялгаврын утгыг олоорой.

а. $14 - 5 =$

$$\begin{array}{c} 4 \quad 1 \end{array}$$

б. $12 - 5 =$



$$\begin{array}{c} 10 \quad 2 \end{array}$$

в. $13 - 7 =$

г. $16 - 8 =$

д. $15 - 9 =$

Дууссан:сарөдөр

Даалгавар	1	2
Өөрийн үнэлгээ	